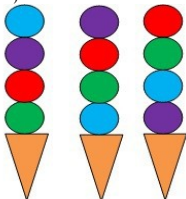





Ledų gamybos mašina tam tikru būdu deda skirtingų spalvų ledų rutuliukus. Į vieną vaflinį indelį dedami keturi ledų rutuliukai. Paveikslėlyje pavaizduotos trys mašinos pagamintos ledų porcijos:




Kokia tvarka mašina sudės rutuliukus kitoje ledų porcijoje?


A



B



C



D

