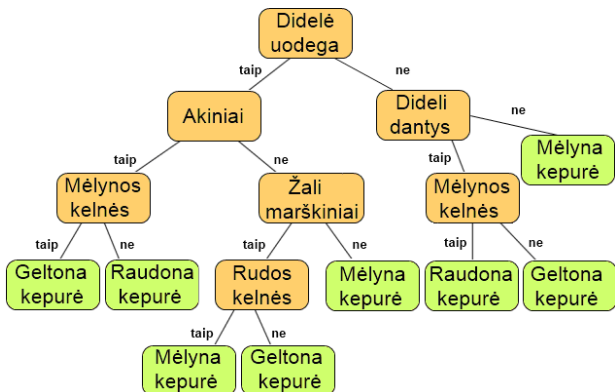


Bebrai mėgsta sutartines taisykles, tad sukūrė naują aprangos kodą ir aprašė jį pateikta schema.




Tokia schema vadinama medžiu: yra vienas kamienas, iš kurios eina šakos kaip ir tikrame medyje, tik vaizduojama apverstai. Pradedama nuo kamieno, toliau sekama šakomis ir taip nusprendžiama, kaip galima rengtis.


Tačiau ne visi bebrai apsirengė teisingai.

Kuris iš bebrų nesilaiko aprangos kodo?


A



B



C



D

